



**Prefeitura  
de Rolândia**

**SECRETARIA MUNICIPAL DE EDUCAÇÃO  
ATIVIDADES COMPLEMENTARES DE ESTUDO – COVID 19**



**ROTEIRO DE ATIVIDADES COMPLEMENTARES DE ESTUDO – COVID 19**

**3º ROTEIRO 2021**

**ESCOLA MUNICIPAL SÃO FERNANDO**

**PROFESSORA: NUBIA**

**TURMA: EJA ETAPA 1**

**COMPONENTES CURRICULARES: LÍNGUA PORTUGUESA E MATEMÁTICA.**

**PERÍODO DE REALIZAÇÃO: 08 A 12 DE MARÇO.**

**PREENCHA DE ACORDO COM OS DADOS DO ALUNO (A):**

**NOME:** \_\_\_\_\_

**TELEFONE:** \_\_\_\_\_

**ENDEREÇO:** \_\_\_\_\_

<p><b>O QUE VOCÊ VAI ESTUDAR:</b></p>	<ul style="list-style-type: none"> <li>➤ <b>LÍNGUA PORTUGUESA:</b> ESCRITA DE PALAVRAS, RIMA, ALITERAÇÃO.</li> <li>➤ <b>MATEMÁTICA:</b> NUMERAÇÃO ( DEZENAS / DÚZIA). MEDIDAS DE TEMPO: RELAÇÕES ENTRE HORAS E MINUTOS, SISTEMA MONETÁRIO.</li> </ul>
<p><b>PARA QUE VAMOS ESTUDAR ESSES CONTEÚDOS?</b></p>	<p><b>LÍNGUA PORTUGUESA:</b> DOMÍNIO DO MECANISMO E DOS RECURSOS DO SISTEMA DE REPRESENTAÇÃO ESCRITA, COMPREENDENDO SUAS FUNÇÕES; INTERESSE PELA LEITURA E ESCRITA COMO FONTES DE INFORMAÇÃO, APRENDIZAGEM.</p> <p><b>MATEMÁTICA:</b> RECONHECIMENTO DE NÚMEROS; LEITURA , ESCRITA E COMPREENSÃO DE NÚMEROS; LER E REGISTRAR AS HORAS A PARTIR DA LEITURA REALIZADA EM RELÓGIOS DIGITAIS E ANALÓGICOS E O DINHEIRO NO DIA A DIA.</p>
<p><b>COMO VAMOS ESTUDAR OS CONTEÚDOS?</b></p>	<ul style="list-style-type: none"> <li>➤ ORGANIZE UM AMBIENTE TRANQUILO E FIQUE ATENTO ÀS EXPLICAÇÕES DADAS PELA PROFESSORA NO WHATSAPP.</li> <li>➤ ORGANIZE-SE COM AS ATIVIDADES PARA NÃO ACUMULAR.</li> <li>➤ SE TIVER DÚVIDA PERGUNTE NO WHATSAPP PARA A PROFESSORA PARA NOVA EXPLICAÇÃO.</li> </ul>

**COMO VAMOS REGISTRAR O QUE APRENDEMOS?**

- BUSCANDO AS ATIVIDADES IMPRESSAS NA ESCOLA. LENDO E PREENCHENDO DE ACORDO COM AS ORIENTAÇÕES AS ATIVIDADES ENVIADAS COMPLETAMENTE, SEM DEIXAR NADA EM BRANCO OU INCOMPLETO.
- OUVINDO ATENTAMENTE AS EXPLICAÇÕES QUE A PROFESSORA ENVIA PELO WHATSAPP E CHAMANDO QUANDO NÃO ENTENDER OU CONSEGUIR FAZER AS ATIVIDADES.
- DEVOLVENDO AS ATIVIDADES SEMANALMENTE PARA QUE A PROFESSORA FAÇA AS CORREÇÕES NECESSÁRIAS

ESCOLA MUNICIPAL SÃO FERNANDO.ROLÂNDIA, 08  
DE MARÇO DE 2021.


HOJE É SEGUNDA-FEIRA.

□

LÍNGUA PORTUGUESA

O ALFABETO

- PARA ESCREVER, USAMOS AS LETRAS DO ALFABETO.



CIRCULE DE **VERMELHO** AS LETRAS DO SEU NOME:

ESCREVA O SEU NOME:

QUANTAS LETRAS TEM O SEU NOME?

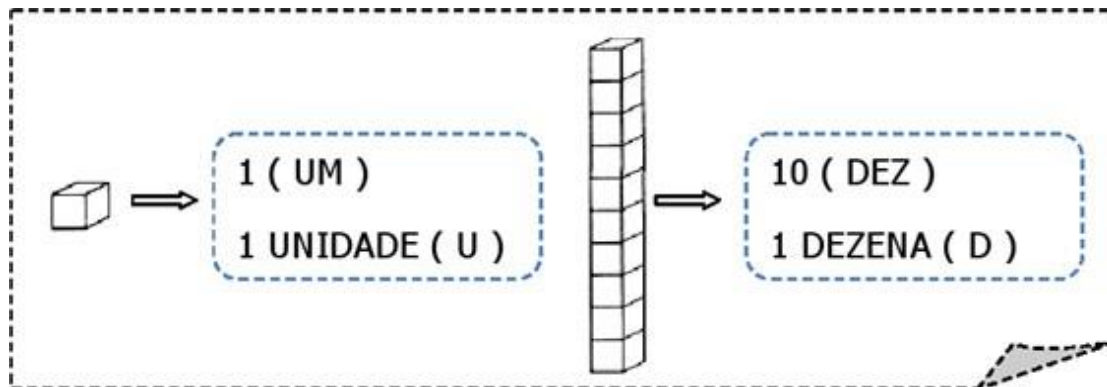
QUAL É A PRIMEIRA LETRA DO SEU NOME?

E QUAL É A ÚLTIMA LETRA DO SEU NOME?

**MATEMÁTICA**  
**DEZENAS E UNIDADES**

**ESCREVA O NUMERAL CORRESPONDENTE AO MATERIAL DOURADO.**

**SIGA O EXEMPLO:**



14

\_\_\_\_\_

\_\_\_\_\_

\_\_\_\_\_

\_\_\_\_\_

\_\_\_\_\_

\_\_\_\_\_

\_\_\_\_\_

\_\_\_\_\_

ESCOLA MUNICIPAL SÃO FERNANDO.















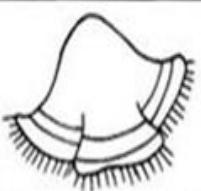








ROLÂNDIA, 09 DE MARÇO DE 2021.

HOJE É TERÇA-FEIRA.

LÍNGUA PORTUGUESA

LÍNGUA PORTUGUESA: Aliteração e Consciência fonológica.

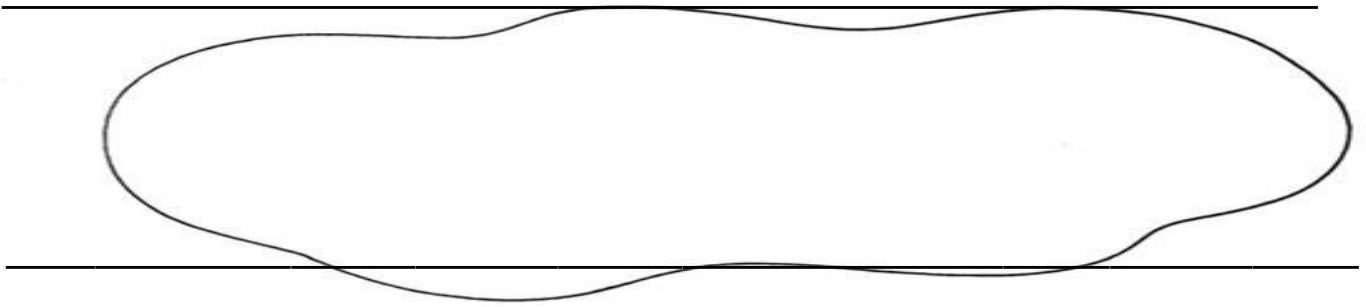
1. PINTE A FIGURA CUJO NOME COMEÇA COM O MESMO SOM QUE O NOME DO DESENHO EM DESTAQUE E DEPOIS ESCREVA OS PARES DE PALAVRAS NAS LINHAS AO LADO.

 <b>MA</b> CACO	  	_____
 <b>TA</b> TU	  	_____
 <b>PA</b> PAGAIO	  	_____
 <b>GI</b> RAFA	  	_____
 <b>BO</b> LO	  	_____
 <b>SA</b> PATO	  	_____
 <b>LA</b> TA	  	_____

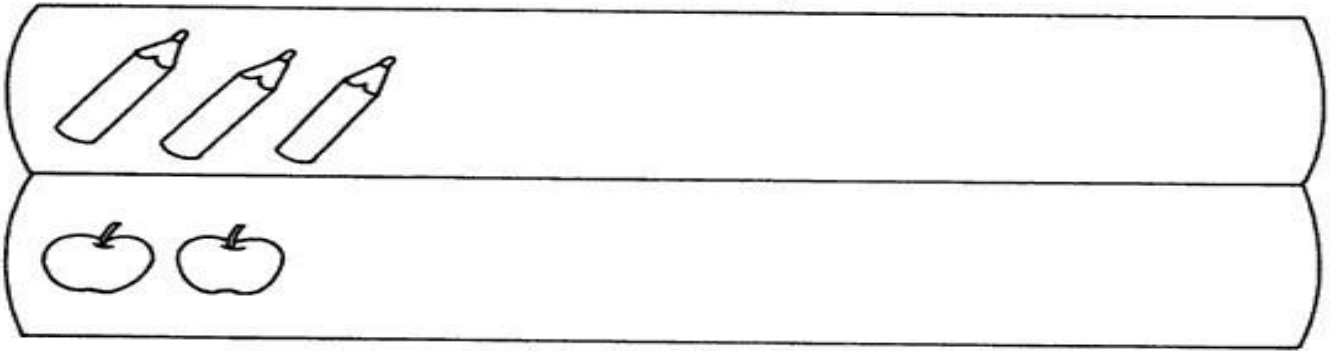
## MATEMÁTICA

### UMA DEZENA É COMPOSTA POR 10 UNIDADES.

A) FORME UM CONJUNTO QUE TENHA UMA DEZENA DE ELEMENTOS.



B) CONTINUE DESENHANDO PARA FORMAR UMA DEZENA DE **LÁPIS** E UMA DEZENA DE **MAÇÃS**.



C) ESCREVA POR EXTENSO OS NUMERAIS:

11: \_\_\_\_\_

16: \_\_\_\_\_

14: \_\_\_\_\_

D) MARIA FOI AO SUPERMERCADO E COMPROU DUAS DEZENAS DE LARANJAS.

QUANTAS LARANJAS MARIA COMPROU?

R: MARIA COMPROU \_\_\_\_\_ LARANJAS.

E) REPRESENTA COM DESENHO O TOTAL DE LARANJAS QUE MARIA COMPROU.



ESCOLA MUNICIPAL SÃO FERNANDO.

ROLÂNDIA, 10 DE MARÇO DE 2021.

HOJE É QUARTA- FEIRA.

LÍNGUA PORTUGUESA: Consciência fonológica - Rima.

1. OBSERVE O DESENHO EM DESTAQUE. A SÍLABA FINAL TERMINA EM ÃO. PINTE TODOS OS DESENHOS CUJO SOM FINAL TERMINA EM ÃO.



LI MÃO


2. AGORA ESCREVA O NOME DAS FIGURAS QUE VOCÊ PINTOU E OBSERVE AS LETRAS QUE FORMAM O SOM FINAL DESSAS PALAVRAS.

R: \_\_\_\_\_

\_\_\_\_\_

\_\_\_\_\_

**MATEMÁTICA**  
**MEDIDA DE TEMPO:**


O TEMPO PODE SER MEDIDO DE DIVERSAS MANEIRAS.

O DIA É DIVIDIDO EM HORAS, AS HORAS, EM MINUTOS, E OS MINUTOS, EM SEGUNDOS.



O DIA TEM 24 HORAS.  
MEIO DIA TEM 12 HORAS.

DE ACORDO COM O RELÓGIO DIGITAL, MARQUE AS HORAS NO RELÓGIO DE PONTEIRO, CONFORME O EXEMPLO.



2- RESPONDA AS PERGUNTAS BAIXO CONFORME SEU DIA:

a)QUANTAS HORAS VOCÊ TRABALHA POR DIA? \_\_\_\_\_

b)QUANTAS HORAS VOCÊ ESTUDA POR DIA? \_\_\_\_\_

c)QUANTAS HORAS VOCÊ DORME POR DIA? \_\_\_\_\_

d)QUANTAS HORAS POR DIA VOCÊ TEM PARA ALMOÇAR? \_\_\_\_\_

ESCOLA MUNICIPAL SÃO FERNANDO.

ROLÂNDIA, 11 DE MARÇO DE 2021.

HOJE É QUINTA-FEIRA.

LÍNGUA PORTUGUESA

1-FORME OUTRAS PALAVRAS COM AS LETRAS DA PALAVRA GORILA E, ESCREVA- AS NOS QUADROS DE ACORDO COM OS NÚMEROS CORRESPONDENTES DE CADA LETRA:

G	O	R	I	L	A
1	2	3	4	5	6



3	4	2

1	5	2	3	4	6

1	2	5

3	6	5	2

1	6	3	3	6

1	6	5	2

5	6	1	2

1	3	4	5	2

1	2	5	6

1	2	3	3	2

1	4	3	4	6



## MEDIDAS DE TEMPO

A UNIDADE DE MEDIDA DO TEMPO É O SEGUNDO.

TABELA DO TEMPO

1 DIA	24 HORAS
1 HORA	60 MINUTOS
1 MINUTO	60 SEGUNDOS
1 SEMANA	7 DIAS
1 QUINZENA	15 DIAS
1 BIMESTRE	2 MESES
1 TRIMESTRE	3 MESES
1 SEMESTRE	6 MESES
1 BIÊNIO	2 ANOS
1 TRIÊNIO	3 ANOS
1 DÉCADA	10 ANOS
1 SÉCULO	100 ANOS
1 MILÊNIO	1000 ANOS

LIGUE-SE NESTA! 

① Quantas horas existem em:

a) 2 dias:

( ) 46      ( ) 47      ( ) 48

b) 1 dia e meio:

( ) 24      ( ) 30      ( ) 36

c) Meio dia e 2 horas:

( ) 12      ( ) 13      ( ) 14

d) 2 dias e 3 horas:

( ) 50      ( ) 51      ( ) 52

e) 1 dia e 5 horas:

( ) 27      ( ) 28      ( ) 29



ESCOLA MUNICIPAL SÃO FERNANDO.

ROLÂNDIA, 12 DE MARÇO DE 2021.

HOJE É SEXTA- FEIRA.

LÍNGUA PORTUGUESA

① Leia as palavras abaixo e escreva-as no quadro correspondente.

GERALDO - GAVIÃO - GOIABA - GABRIEL - TIGELA  
MANGA - GIZ - GAVETA - GELADEIRA - GISELE - GALINHA  
TANGERINA - PÊSSEGO - GALO - GIRAFÁ - GIOVANA

PESSOAS	ANIMAIS	OBJETOS	FRUTAS

② Quantas palavras você escreveu para:

NOMES DE:	QUANTOS?
PESSOAS	
ANIMAIS	
OBJETOS	
FRUTAS	



## MATEMÁTICA



### O DINHEIRO QUE USAMOS

É preciso ter dinheiro para se comprar alguma coisa.  
No Brasil, a moeda que usamos é o **real**.  
O símbolo do real é o **R\$**.

- Observe as moedas e seus valores:



- Agora, observe as cédulas:



JOAQUIM FOI AO SUPERMERCADO E COMPROU ALGUNS PRODUTOS COM OS SEGUINTE VALORES:

- 01 PACOTE DE ARROZ R\$ 9,00
- 01 PACOTE DE FEIJÃO R\$ 3,00
- 01 PACOTE DE AÇUCAR R\$ 4,00
- 01 CAIXA DE SABÃO EM PÓ R\$ 5,00
- 01 PACOTE DE PAPEL HIGIÊNICO R\$ 7,00



QUANTO JOAQUIM GASTOU COM AS COMPRAS? \_\_\_\_\_

QUANTOS ITENS JOAQUIM COMPROU? \_\_\_\_\_

JOAQUIM LEVOU PARA O SUPERMERCADO R\$ 40,00, QUANTO ELE RECEBEU DE TROCO?

\_\_\_\_\_